

第4問

以下は、領域処理に関する問題である。(1)~(5)の問いに最も適するものを解答群から選び、記号で答えよ。

- (1) 図1の画像に対して2次元フーリエ変換を行った。変換の結果、得られるパワースペクトルはどれか。ただし、パワースペクトルの中心は直流成分を表し、白いほど値が大きいものとする。






図1

【解答群】

ア.



イ.



ウ.



エ.



オ.

