

第1問

練習問題 1

練習問題 2

練習問題 3

練習問題 1

練習問題 2

練習問題 3

エキスパート

ベーシック

図 1

a, b




図 1

a. 図 1

A B 2

UV

図 1

図 2

図 3

図 4

図 3

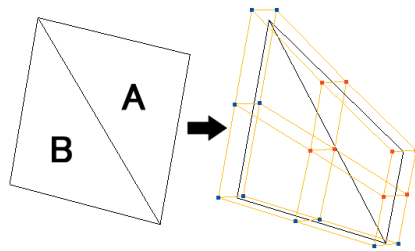


図 2

黄: 変形ラティス
赤: 移動したポイント
青: 移動していないポイント




図 3




図 4



a : UV

b :

図 6


ウ

ア : 図A

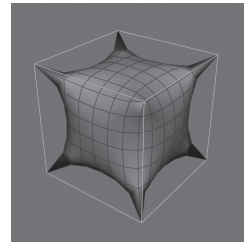
イ : 図B

エ :

オ : UV



図A すべての稜線のCreaseが最大のとき



図B すべての頂点のCreaseが最大のとき

図10

ア

KEYWORD



chapter 3

chapter 3

67

r

a :

ア

b :